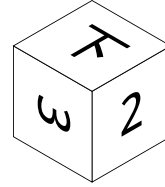

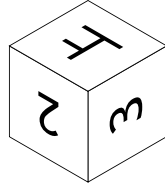
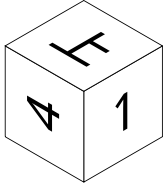


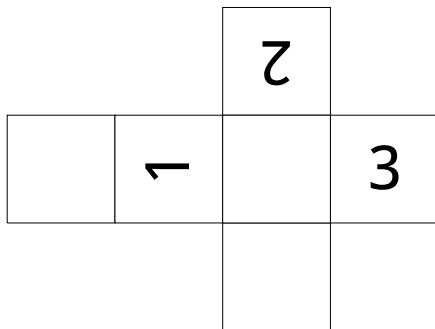
# 立方体 4 (見取り図 展開図) 1

全ての面に文字が書かれた立方体を作り、いろいろな方向から見ました。

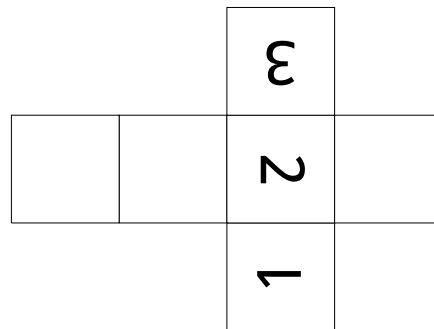


以下の (1) から (4) がこの立方体の展開図となるように文字を書き込みましょう。

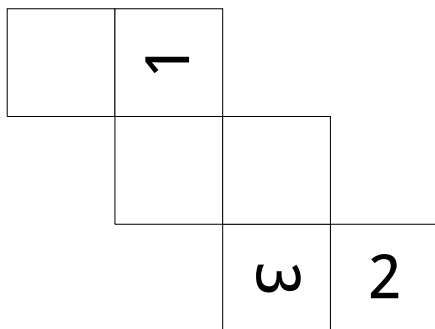
(1)



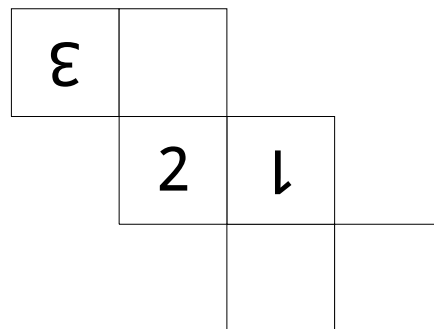
(2)



(3)

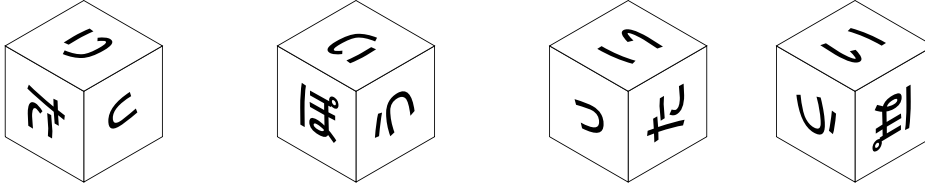


(4)



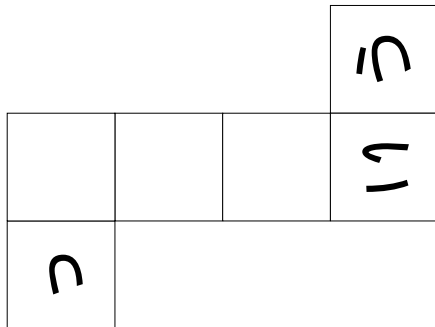
## 立方体 4 (見取り図 展開図) 2

全ての面に文字が書かれた立方体を作り、いろいろな方向から見ました。

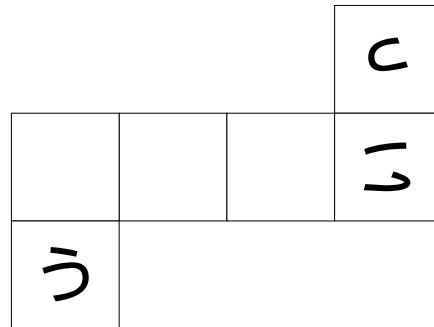


以下の (1) から (4) がこの立方体の展開図となるように文字を書き込みましょう。

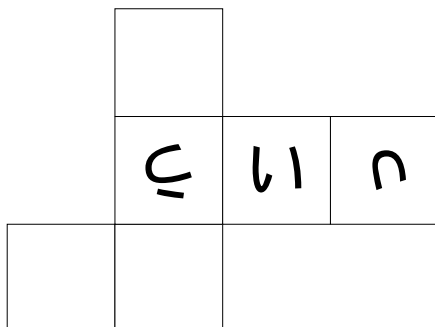
(1)



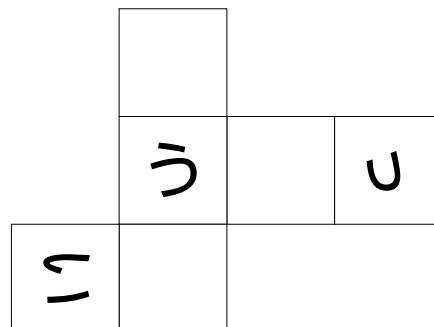
(2)



(3)

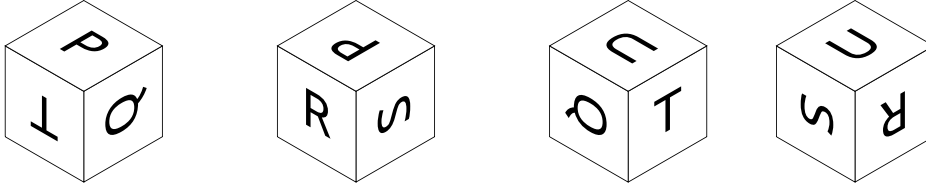


(4)



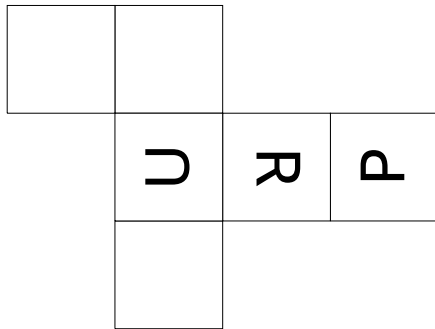
### 立方体 4 (見取り図 展開図) 3

全ての面に文字が書かれた立方体を作り、いろいろな方向から見ました。

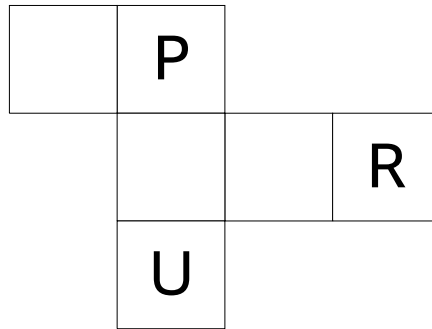


以下の (1) から (4) がこの立方体の展開図となるように文字を書き込みましょう。

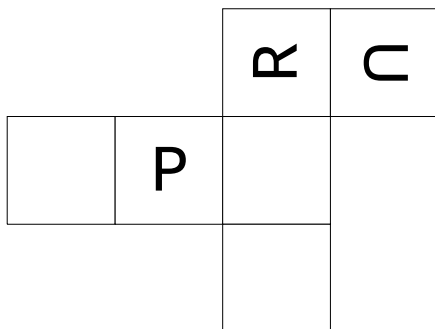
(1)



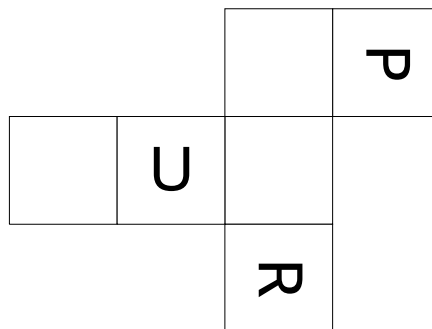
(2)



(3)


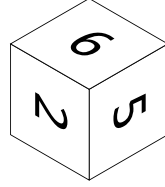
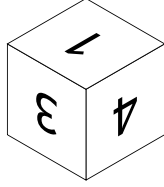
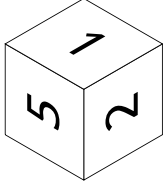


(4)



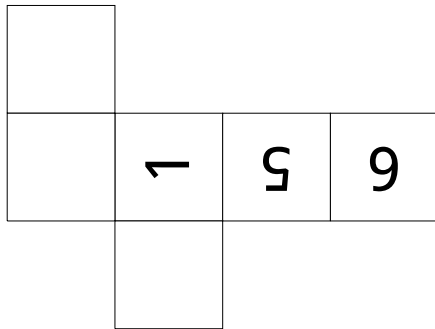
## 立方体 4 (見取り図 展開図) 4

全ての面に文字が書かれた立方体を作り、いろいろな方向から見ました。

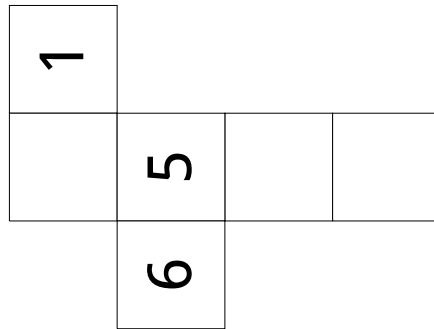


以下の (1) から (4) がこの立方体の展開図となるように文字を書き込みましょう。

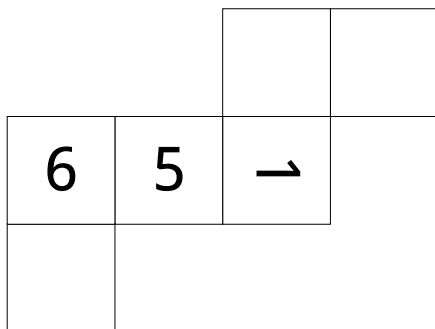
(1)



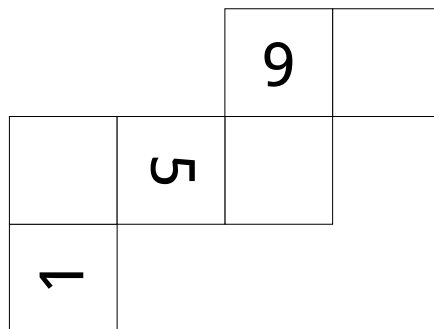
(2)



(3)

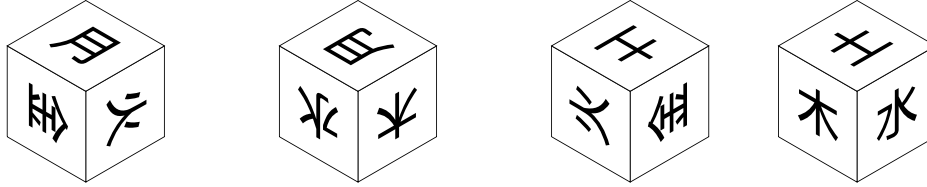


(4)



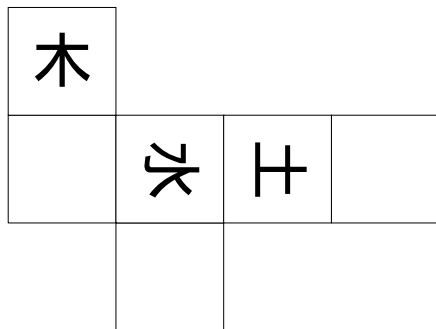
## 立方体 4 (見取り図 展開図) 5

全ての面に文字が書かれた立方体を作り、いろいろな方向から見ました。

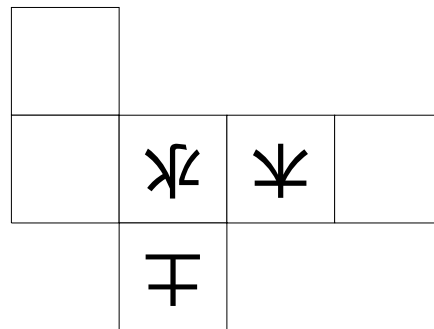


以下の (1) から (4) がこの立方体の展開図となるように文字を書き込みましょう。

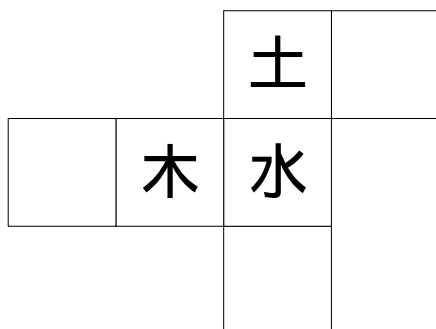
(1)



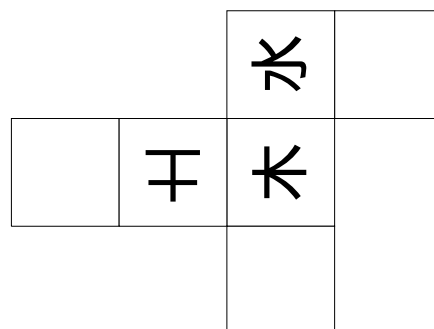
(2)



(3)

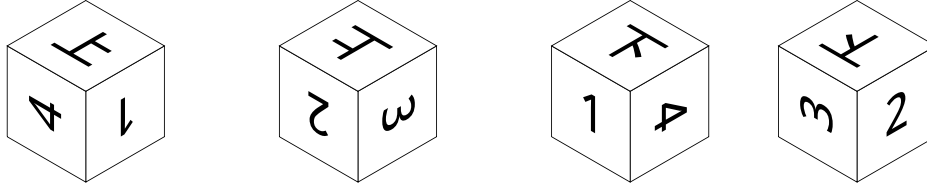


(4)



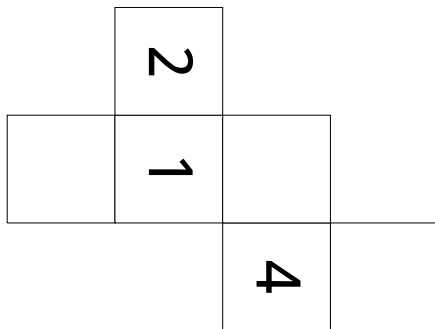
## 立方体 4 (見取り図 展開図) 6

全ての面に文字が書かれた立方体を作り、いろいろな方向から見ました。

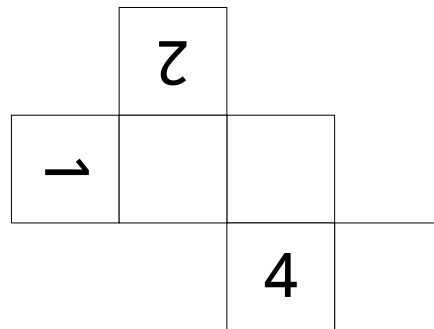


以下の (1) から (4) がこの立方体の展開図となるように文字を書き込みましょう。

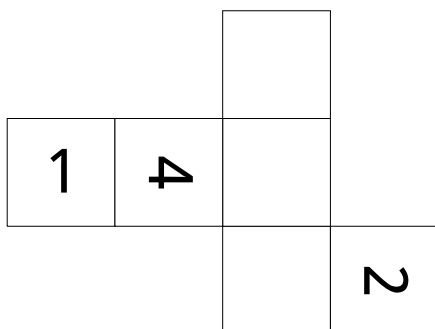
(1)



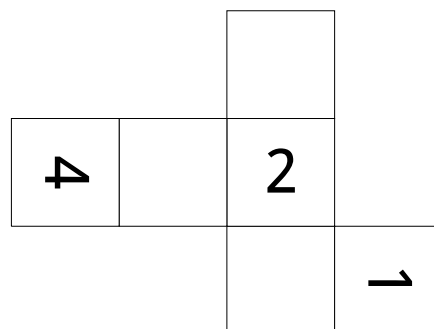
(2)



(3)

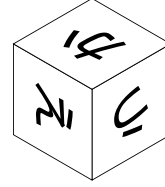
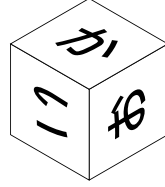
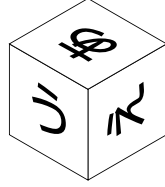
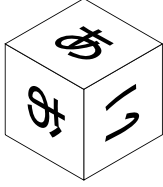


(4)



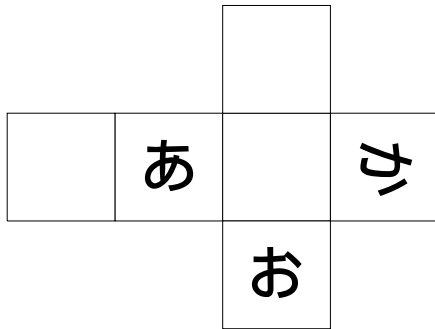
## 立方体 4 (見取り図 展開図) 7

全ての面に文字が書かれた立方体を作り、いろいろな方向から見ました。

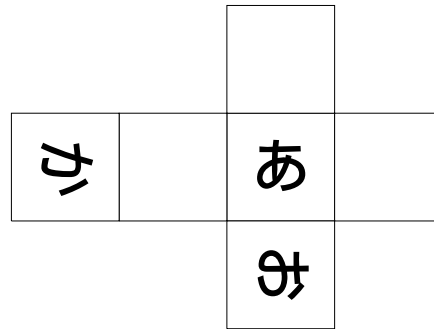


以下の (1) から (4) がこの立方体の展開図となるように文字を書き込みましょう。

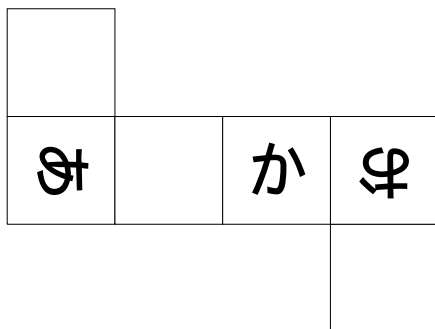
(1)



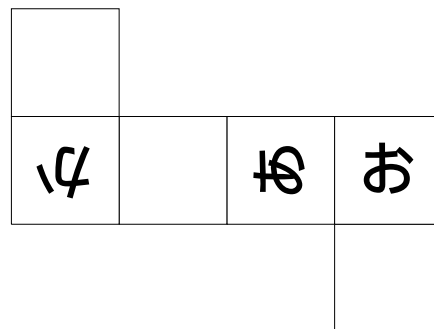
(2)



(3)

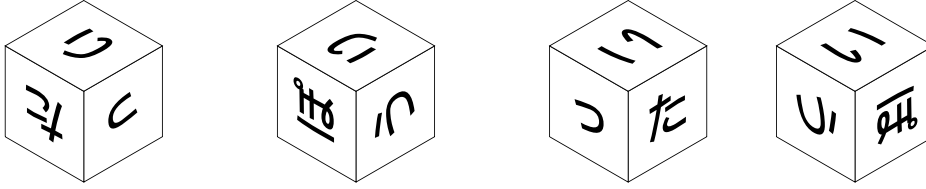


(4)



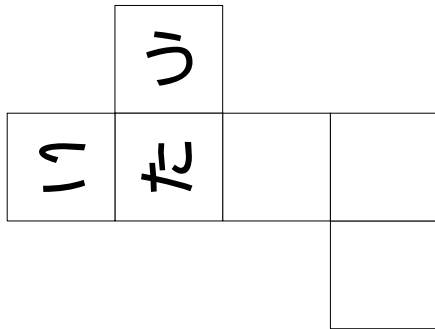
## 立方体 4 (見取り図 展開図) 8

全ての面に文字が書かれた立方体を作り、いろいろな方向から見ました。

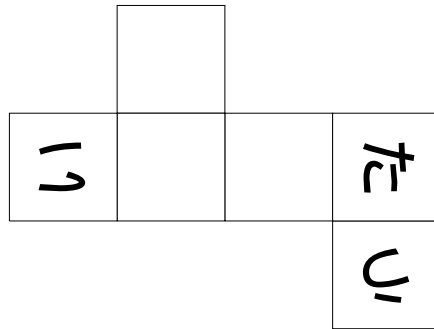


以下の (1) から (4) がこの立方体の展開図となるように文字を書き込みましょう。

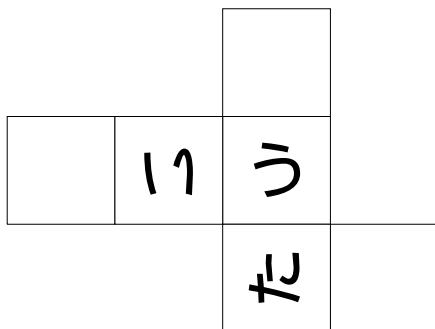
(1)



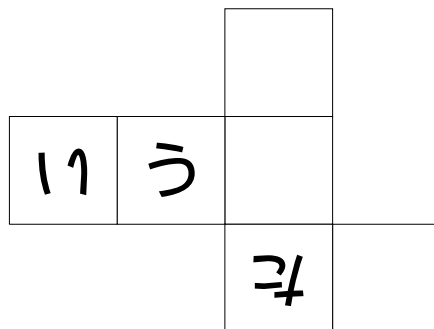
(2)



(3)



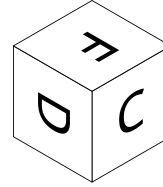
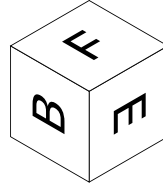
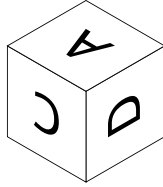
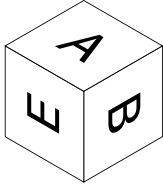
(4)





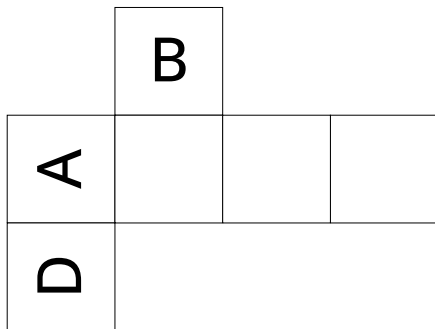
## 立方体 4 (見取り図 展開図) 9

全ての面に文字が書かれた立方体を作り、いろいろな方向から見ました。

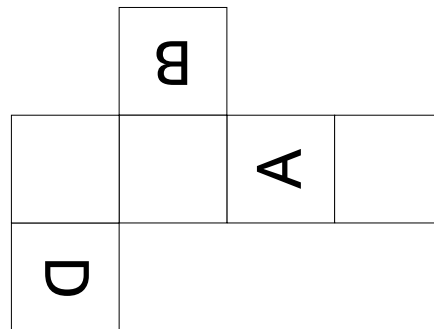


以下の (1) から (4) がこの立方体の展開図となるように文字を書き込みましょう。

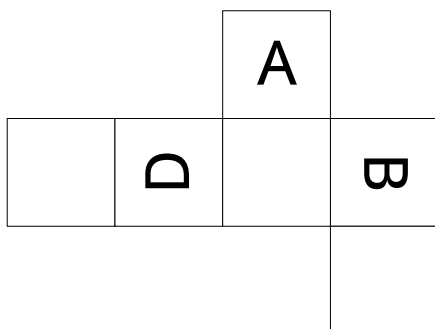
(1)



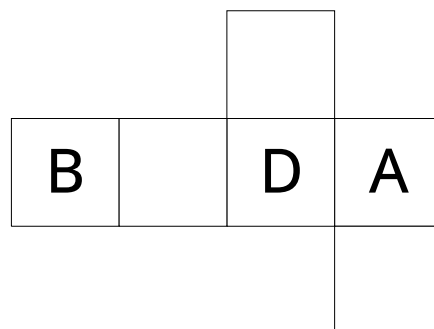
(2)



(3)

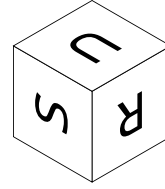
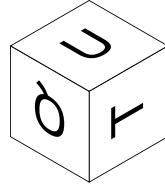
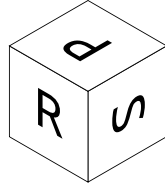
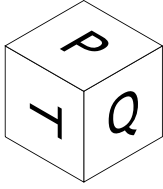


(4)




## 立方体 4 (見取り図 展開図) 10

全ての面に文字が書かれた立方体を作り、いろいろな方向から見ました。

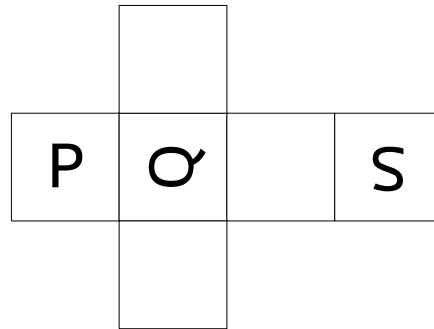


以下の (1) から (4) がこの立方体の展開図となるように文字を書き込みましょう。


(1)



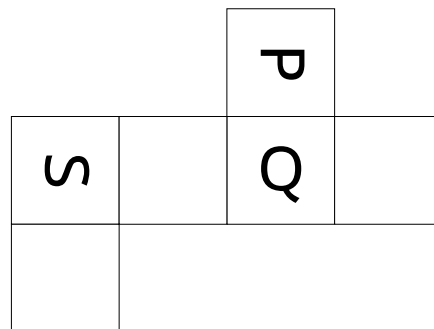
(2)



(3)

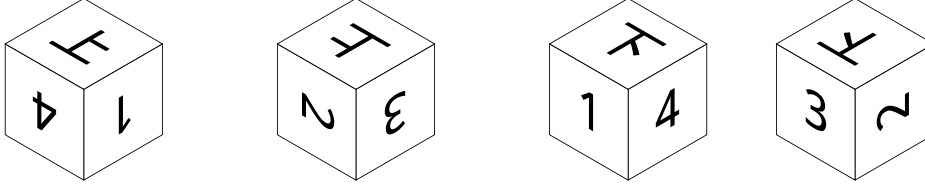


(4)



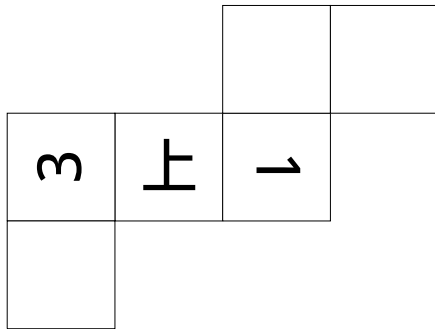
## 立方体 4 (見取り図 展開図) 11

全ての面に文字が書かれた立方体を作り、いろいろな方向から見ました。

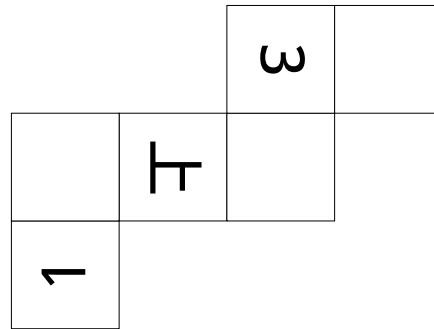


以下の (1) から (4) がこの立方体の展開図となるように文字を書き込みましょう。

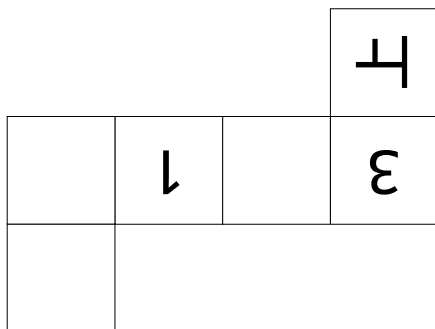
(1)



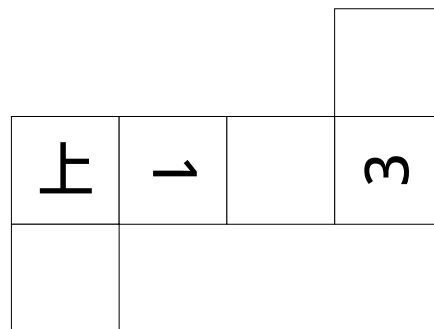
(2)



(3)

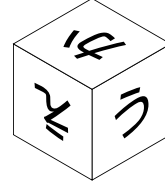

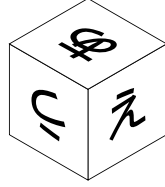
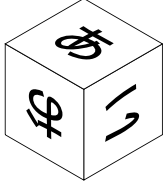


(4)



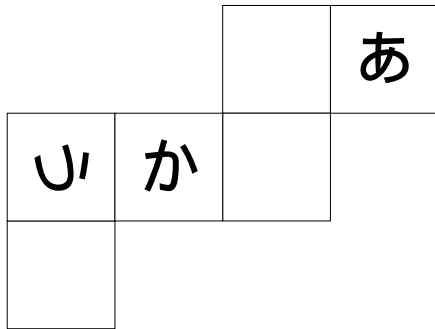
## 立方体 4 (見取り図 展開図) 12

全ての面に文字が書かれた立方体を作り、いろいろな方向から見ました。

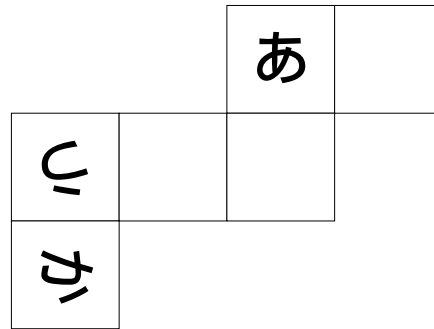


以下の (1) から (4) がこの立方体の展開図となるように文字を書き込みましょう。

(1)



(2)



(3)



(4)

